

「思考スキル」は、問題に取り組むことを通じて、みなさんに身につけてほしい力を表したものです。思考スキルは、特定の問題に限らず、さまざまな場面で活用することができる大切な力です。問題につまずいたときには、思考スキルに着目してみましょう。どのような切り口で問題と向き合えばよいのか、どのように考え進めればよいのか、…など、手がかりをとらえるのに役立ちます。問題に取り組むとき、活用してみましょう。

思考スキル

○情報を獲得する

- ・問題文から情報や問題の条件を正しくとらえる
- ・図やグラフなどから情報を正しくとらえる

○再現する

- ・計算を正しく行う
- ・問題の指示通りの操作を正しく行う

○調べる

- ・方針を立て、考えられる場合をもれや重複なく全て探し出す
- ・書き出すことを通じて、法則を発見する

○順序立てて筋道をとらえる

- ・変化する状況を時系列で明らかにする
- ・複雑な状況を要素ごとに整理する
- ・前問が後に続く問いの手がかりとなっていることを見ぬく

○特徴的な部分に注目する

- ・等しい部分に注目する
- ・変化しないものに注目する
- ・際立った部分(計算式の数、素数、約数、平方数、…など)に注目する
- ・和、差や倍数関係に注目する
- ・対称性に注目する
- ・規則や周期に注目する

○一般化する

- ・具体的な事例から、他の状況にもあてはまるような式を導き出す
- ・具体的な事例から、規則やきまりをとらえて活用する

○視点を変える

- ・図形を別の視点で見るとらえる
- ・立体を平面的にとらえる
- ・多角的な視点で対象をとらえる

○特定の状況を仮定する

- ・極端な場合を想定して考える(もし全て○なら、もし○○がなければ、…など)
- ・不足を補ったり、余分を切りはなしたりして全体をとらえる
- ・複数のものが移動するとき、特定のものを移動させて状況をとらえる
- ・具体的な数をあてはめて考える
- ・解答の範囲や大きさの見当をつける

思考スキル

○知識

- ・ 情報を手がかりとして、持っている知識を想起する
- ・ 想起した知識を正しく運用する

○理由

- ・ 筆者の意見や判断の根拠こんきょを示す
- ・ ある出来事の原因、結果となることを示す
- ・ 現象の背後はいごにあることを明らかにする

○置き換え

- ・ 問いを別の形で言い表す
- ・ 問題の状況じょうきょうを図表などに表す
- ・ 未知のものを自分が知っている形で表す
- ・ 具体的な数と比を自由に行き来する

○比較

- ・ 多角的な視点してんで複数のことがらを比べる
- ・ 複数のことがらの共通点を見つけ出す
- ・ 複数のことがらの差異さいを明確にする

○分類

- ・ 個々の要素によって、特定のまとまりに分ける
- ・ 共通点、相違点そういてんに着目して、情報を切り分けていく

○具体・抽象

- ・ 文章から筆者の挙げる例、特定の状況や心情を取り出す
- ・ ある特徴とくちょうを持つものを示す
- ・ 個々の事例から具体的な要素を除いて形式化する
- ・ 個々の事例から共通する要素を取り出してまとめる

○関係づけ

- ・ 情報どうしを結び付ける
- ・ 要素間の意味を捉え、情報を補う
- ・ 部分と全体のそれぞれが互たがいに与えあう影響えいに目を向ける
- ・ ある目的のための手段しゅだんとなることを見つけ出す

○推論

- ・ 情報をもとに、論理的な帰結を導き出す
- ・ 情報をもとに、未来・過去のことを予測する
- ・ 情報を活用して、さらに別の情報を引き出す

小学6年 算数 — 解答と解説

1

(1)	(2)	(3)
9	628	$2\frac{1}{3}$
21	22	23
(4)	(5)	
$\frac{2}{15}$	10	
24	25	

2

(1)									
ア	300	(度)	イ	5.5	(度)	ウ	(10時)	$54\frac{6}{11}$	分
	26			27				28	
(2)	(3)	(4)							
7	%	80	m	1017.36	cm ³				
29		30		31					

3

(1)	(2)	(3)			
20	本	135	度	50	cm ²
32		33		34	

4

(1)	(2)					
900	個	①	168	②	34	個
35			36		37	

5

(1)	(2)
6 才	25 才
38	39

6

(1)	(2)
72 cm ³	144 cm ²
40	41

7

(1)	(2)	(3)
$\frac{1}{4}$	1 時間 40 分	1 時間 15 分
42	(完答) 43	(完答) 44

8

(1)	(2)	(3)
55	0	506 個
45	46	47

9

(1)	(2)	(3)
10 通り	64 通り	15 通り
48	49	50

(配点) 各 5 点×30 計150点

【解説】

- ① (2) **A1** 特徴的な部分に注目する 再現する

分配法則を利用することができます。

$$\begin{aligned} & 158 \times 3.14 + 3.14 \times 42 \\ &= 3.14 \times (158 + 42) \\ &= 3.14 \times 200 \\ &= 628 \end{aligned}$$

- (5) **A2** 知識 再現する

先に計算できるところを計算してから逆算します。

$$\begin{aligned} (0.25 + \frac{2}{5}) \times \square - 5.5 &= 1 \\ 0.65 \times \square - 5.5 &= 1 \\ 0.65 \times \square &= 1 + 5.5 \\ 0.65 \times \square &= 6.5 \\ \square &= 6.5 \div 0.65 \\ \square &= 10 \end{aligned}$$

- ② (1) **A1** 知識 再現する

(時計算)

ア 10時ちょうどのとき、長針と短針が作る大きい方の角の大きさは $360 \div 12 \times 10 = 300$ (度) です。

イ 長針は1分間に $360 \div 60 = 6$ (度)、短針は1分間に $30 \div 60 = 0.5$ (度) 同じ向きに進むので、2つの針は1分間に $6 - 0.5 = 5.5$ (度) ずつ近づきます。

ウ $300 \div 5.5 = 54 \frac{6}{11}$ (分) より、10時 $54 \frac{6}{11}$ 分とわかります。

- (2) **A1** 知識 再現する

(食塩水)

$300 \times 0.04 + 100 \times 0.16 = 28$ (g) ……混ぜ合わせてできる食塩水 $300 + 100 = 400$ (g) にふくまれる食塩の重さ

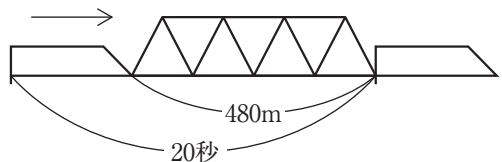
$28 \div 400 = 0.07$ より、7 % です。

- (3) **A1** 知識 再現する

(通過算)

列車の最後尾が進んだ道なりに着目します。

$28 \times 20 = 560$ (m) ……列車の最後尾が進んだ道なり = 列車の長さ + 鉄橋の長さ



$$560 - 480 = 80 \text{ (m)}$$

- (4) **A1** 知識 再現する

(円すい)

円すいや角すいの体積は、底面積×高さ÷3の式で求めることができます。

$$9 \times 9 \times 3.14 \times 12 \div 3 = \underline{1017.36} \text{ (cm}^3\text{)}$$

③ (平面図形)

この問題を通して、正八角形についての理解を深めるとともに、対角線の本数や内角の大きさなど図形の性質に関する知識を確認しておきましょう。

- (1) **A1** 知識 再現する

N角形の対角線の本数は、 $(N-3) \times N \div 2$ の式で求めることができます。

$$(8-3) \times 8 \div 2 = \underline{20} \text{ (本)}$$

- (2) **A1** 知識 再現する

正N角形の1つの内角は、 $180 \times (N-2) \div N$ の式で求めることができます。

$$180 \times (8-2) \div 8 = \underline{135} \text{ (度)}$$

(別の考え方) 外角の和は360度なので、正八角形の1つの外角は $360 \div 8 = 45$ (度)です。

よって、正八角形の1つの内角は $180 - 45 = \underline{135}$ (度)です。

- (3) **B1** 特徴的な部分に注目する 置き換え

$$(180 - 135) \div 2 = 22.5 \text{ (度)}$$

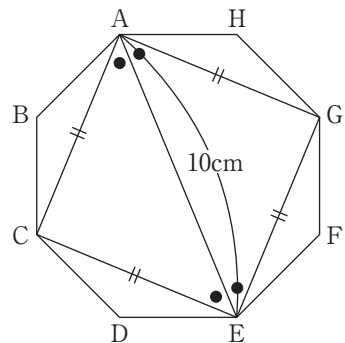
……二等辺三角形BCAの角CABの大きさ

$$135 \div 2 - 22.5 = 45 \text{ (度)}$$

……三角形ACEの角EACの大きさ

右の図で、●のついた角の大きさはすべて45度になります。四角形ACEGは対角線の長さが10cmの正方形になります。

$$10 \times 10 \div 2 = \underline{50} \text{ (cm}^2\text{)}$$



④ (倍数の個数)

数の集合を、図を使って視覚的にとらえるとわかりやすくなります。求める倍数が図のどこにふくまれているのかを一つひとつ確認しながら解き進めていきましょう。また、「AでもありBでもある」や「AであるがBでない」などといった言葉の意味のちがいに意識を向けましょう。

(1) **A2** 情報を獲得する 特徴的な部分に注目する 置き換え

求める個数は、図1のかげをつけた部分に入る整数の個数です。

図1のかげをつけた部分に入る整数の個数は、次の図2のように、「全体の個数(1200個)」から「斜線をつけた部分に入る整数の個数」をひけば求められることがわかります。

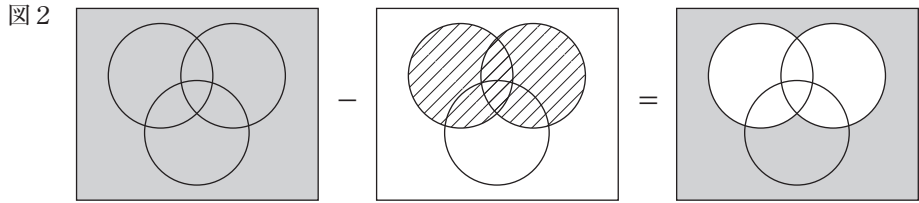
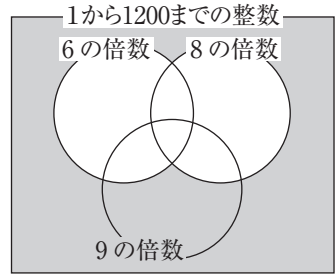


図2の斜線をつけた部分に入る整数の個数を求めます。

斜線をつけた部分は、「6の倍数または8の倍数」です。

$$1200 \div 6 = 200 \text{ (個)} \cdots \cdots 6 \text{ の倍数の個数}$$

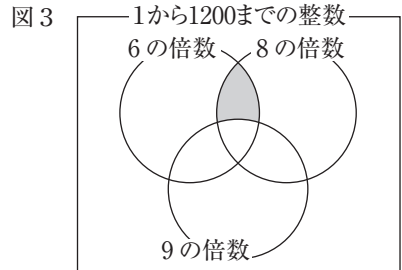
$$1200 \div 8 = 150 \text{ (個)} \cdots \cdots 8 \text{ の倍数の個数}$$

6と8の最小公倍数は24なので、「6の倍数でもあり8の倍数でもある数」は「6と8の公倍数」、つまり、「24の倍数」であることがわかります。

$$1200 \div 24 = 50 \text{ (個)} \cdots \cdots 24 \text{ の倍数の個数} = 6 \text{ と } 8 \text{ の公倍数の個数}$$

よって、斜線部分に入る整数の個数は、 $200 + 150 - 50 = 300$ (個)と求められるので、図1のかげをつけた部分に入る整数の個数は、 $1200 - 300 = 900$ (個)とわかります。

(2) 図3のかげをつけた部分には、「6の倍数でもあり8の倍数でもある数のうち、9の倍数ではない数」、つまり、「24の倍数のうち、9の倍数ではない数」が入ります。



① **B1** 特徴的な部分に注目する 置き換え

24の倍数を小さい方からいくつか書き、そのうち9の倍数でもある数をさがして消すと、次のようになります。

$$24, 48, \cancel{72}, 96, 120, \cancel{144}, 168, \dots$$

よって、小さい方から5番目の数は168とわかります。

② **B1** 特徴的な部分に注目する 置き換え

求める数は「24の倍数のうち、9の倍数ではない数」の個数です。

24と9の最小公倍数は72なので、「24の倍数でもあり9の倍数でもある数」は「72の倍数」です。

$1200 \div 72 = 16$ 余り 48 より、72の倍数は16個あります。(1)より、24の倍数は50個です。

よって、「24の倍数のうち、9の倍数ではない数」は、 $50 - 16 = 34$ (個) あることがわかります。

(参考) (2)①でさがすときに消した9の倍数が72の倍数です。

5 (年齢算)

条件をとらえ、現在と過去の2つの状況^{じょうきょう ひかく}を比較して関係を整理する必要があります。時間内に整理しきれなかった場合は、家族の年齢^{ねんれい}の和と家族の人数の関係を、もう一度確かめておきましょう。

(1) A2 情報を獲得する 再現する

8年前に弟はまだ生まれていないので、現在の4人の年齢の合計から、8年前の父、母、ゆうさんの年齢の合計と、それぞれが8年でとった年齢を引けばよいことがわかります。

$$100 - (70 + 8 \times 3) = \underline{6} \text{ (才)}$$

(別解) $100 - 8 \times 3 = 76$ (才) …… 「8年前の父、母、ゆうさんの年齢の和」+ 「現在の弟の年齢」

$$76 - 70 = \underline{6} \text{ (才)}$$

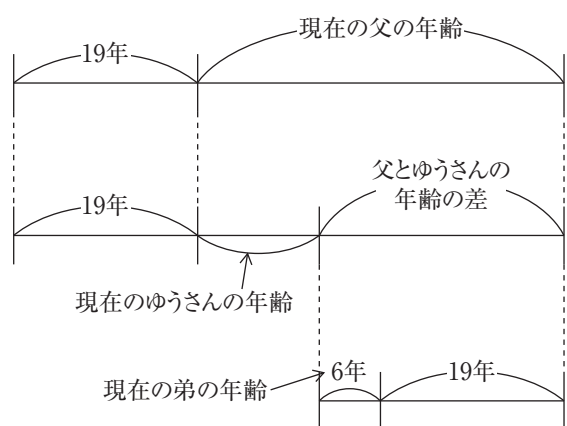
(2) B1 特徴的な部分に注目する 順序立てて筋道をとらえる 置き換え

19年後の父、ゆうさん、弟の年齢の関係は右の図のように表すことができます。

父とゆうさんの年齢の差は何年後でも一定です。

よって、現在の弟の年齢に19をたしたものが、父とゆうさんの年齢差であることがわかります。

$$6 + 19 = \underline{25} \text{ (才)}$$



6 (三角すいの体積と表面積)

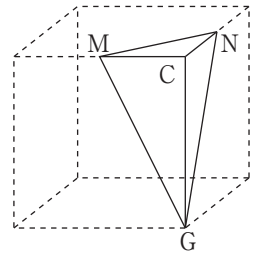
(2)のような三角すいを展開図に表すと正方形になることは、いろいろな問題で利用する場面があるので知識として身につけておきましょう。そのとき、直角の場所や辺の長さの関係も整理しておきましょう。

- (1) **A1** 知識 再現する

3点M、N、Gを通る平面で切断すると、小さい方の立体は右のような三角すいとなります。

$$12 \div 2 = 6 \text{ (cm)} \cdots \cdots \text{CM、CNの長さ}$$

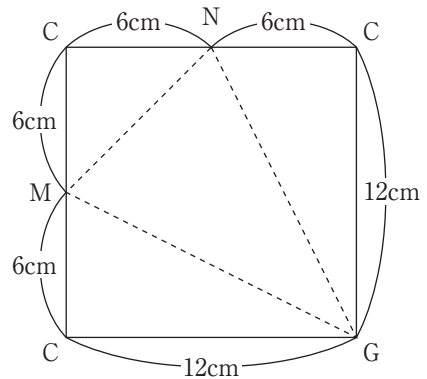
$$6 \times 6 \div 2 \times 12 \div 3 = \underline{72} \text{ (cm}^3\text{)}$$



- (2) **B1** 特徴的な部分に注目する 順序立てて筋道をとらえる 置き換え

この三角すいを展開図に表すと、右のように正方形になります。

$$12 \times 12 = \underline{144} \text{ (cm}^2\text{)}$$



⑦ (仕事算)

仕事の問題では、全体の仕事の量を1と置くか、1人が単位時間(1日、1時間、1分間など)あたりにする仕事の量を1とおくかを自分で決めることがポイントです。自分が何を基準として考え進めていくのかを明確にした上で、「全体の量」と「単位時間あたりの量」の関係を正しくとらえましょう。

- (1) **A1** 知識 再現する

全体の仕事の量を1とします。

$$1 \div 4 = \frac{1}{4}$$

- (2) **A2** 知識 再現する

$$1 \div 5 = \frac{1}{5} \cdots \cdots \text{Bさんが1時間でする仕事の量}$$

$$6\text{時間}40\text{分} = 6\frac{40}{60}\text{時間} = 6\frac{2}{3}\text{時間}$$

$$1 \div 6\frac{2}{3} = \frac{3}{20} \cdots \cdots \text{Cさんが1時間でする仕事の量}$$

$$\frac{1}{4} + \frac{1}{5} + \frac{3}{20} = \frac{3}{5} \cdots \cdots \text{Aさん、Bさん、Cさんの3人が1時間でする仕事の量}$$

$$1 \div \frac{3}{5} = 1\frac{2}{3} \text{ (時間) より、} \underline{1\text{時間}40\text{分}} \text{です。}$$

- (3) **B2** 順序立てて筋道をとらえる 置き換え 特定の状況を仮定する

$$\frac{1}{4} + \frac{3}{20} = \frac{2}{5} \cdots \cdots \text{AさんとCさんの2人が1時間でする仕事の量}$$

ここで、2時間5分すべてを3人で仕事をしたとして、つるかめ算の考え方を利用します。

$$2\text{時間}5\text{分} = 2\frac{5}{60}\text{時間} = 2\frac{1}{12}\text{時間}$$

$$\left(\frac{3}{5} \times 2\frac{1}{12} - 1\right) \div \left(\frac{3}{5} - \frac{2}{5}\right) = 1\frac{1}{4} \text{ (時間) より、} \underline{1\text{時間}15\text{分}} \text{です。}$$

(参考) $(\frac{1}{4}, \frac{1}{5}, \frac{3}{20})$ を通分すると $(\frac{5}{20}, \frac{4}{20}, \frac{3}{20})$ となるので、全体の仕事の量を20とすると、それぞれが1時間でする仕事の量は、Aさんは $20 \times \frac{5}{20} = 5$ 、Bさんは $20 \times \frac{4}{20} = 4$ 、Cさんは $20 \times \frac{3}{20} = 3$ となります。これを利用すると、(2)と(3)は次のように計算できます。

(2) $5+4+3=12$ ……Aさん、Bさん、Cさんの3人が1時間でする仕事の量
 $20 \div 12 = 1\frac{2}{3}$ (時間)より、1時間40分です。

(3) $5+3=8$ ……AさんとCさんの2人が1時間でする仕事の量
 $(12 \times 2 \frac{1}{12} - 20) \div (12 - 8) = 1\frac{1}{4}$ (時間)より、1時間15分です。

⑧ (規則性)

前の2つの項の和が次の数になる「フィボナッチ数列」を素材とし、自ら規則を見つけ、その見つけた規則を一般化して考えていく問題です。すぐに規則が見つからない場合は実際に書き出して試みることで、解決の糸口をさぐることができます。

(1) A2 情報を獲得する 調べる

$5+8=13$ ……7番目の数

$8+13=21$ ……8番目の数

$13+21=34$ ……9番目の数

$21+34=55$ ……10番目の数

(2) B2 特徴的な部分に注目する 順序立てて筋道をとらえる 調べる

この数列の3番目以降のある番目の数を3でわった余りは、「直前の2つの数をそれぞれ3でわったときの余りの和」を3でわった余りに等しくなります。

たとえば、1番目の余りは、 $1 \div 3 = 0$ 余り1より、1となります。

2番目の余りは、 $1 \div 3 = 0$ 余り1より、1となります。

3番目の余りは、 $(1+1) \div 3 = 0$ 余り2より、2となります。

4番目の余りは、 $(1+2) \div 3 = 1$ より、0となります。

5番目の余りは、 $(2+0) \div 3 = 0$ 余り2より、2となります。

6番目の余りは、 $(0+2) \div 3 = 0$ 余り2より、2となります。

7番目の余りは、 $(2+2) \div 3 = 1$ 余り1より、1となります。

…

このことを利用して、3でわった余りを1番目から順に書き並べ、規則を調べます。

すると、1、1、2、0、2、2、1、0、1、1、…となり、下線部に着目すると、余りは「1、1、2、0、2、2、1、0」の8個の数のくり返しになることがわかります。

$2024 \div 8 = 253$ より、答えはくり返しの最後の数の0になります。

- (3)
- B2**
- 特徴的な部分に注目する 順序立てて筋道をとらえる 調べる

1つのくり返しの中に3でわり切れるもの(余りが0になるもの)は2個あります。

$$2 \times 253 = \underline{506} \text{ (個)}$$

⑨ (場合の数)

何通りあるのかを数えるときには、ただやみくもに調べても、もれが出てしまいます。正確に数えるための工夫として、調べる順番を自分で決めたり場合分けしたりして、整理して数えられるようにしましょう。

- (1)
- A2**
- 情報を獲得する 調べる

2枚のカードに書かれた数の積が奇数になるためには、2枚とも奇数でなくてはなりません。①から⑩までの中に奇数のカードは①、③、⑤、⑦、⑨の5枚あります。この5枚のカードから2枚のカードを選ぶ選び方は、 $5 \times 4 \div 2 = 10$ (通り) あります。

- (2)
- B1**
- 特徴的な部分に注目する 順序立てて筋道をとらえる 調べる

3枚のカードに書かれた数の積が5の倍数になるためには、少なくとも1枚は⑤か⑩を選ばなくてはなりません。

- ・⑤を選び、⑩を選ばない場合

⑤以外の2枚のカードは、⑤と⑩以外のどれでもよいので、 $10 - 2 = 8$ (枚) から2枚を選びます。8枚のカードから2枚のカードを選ぶ選び方は、 $8 \times 7 \div 2 = 28$ (通り) です。

- ・⑩を選び、⑤を選ばない場合

上記と同様に考えればよいので、28通りとわかります。

- ・⑤と⑩の両方を選ぶ場合

⑤と⑩以外の1枚のカードは、⑤と⑩以外の $10 - 2 = 8$ (枚) のどれでもよいので、8通りとわかります。

以上より、 $28 + 28 + 8 = \underline{64}$ (通り) です。

- (3)
- B2**
- 特徴的な部分に注目する 順序立てて筋道をとらえる 調べる

何枚かのカードを選び、カードに書かれた数の積の一の位が5となるためには、1枚は⑤を選び、⑤以外のカードはすべて奇数でなくてはなりません。⑤以外の奇数のカードは、①、③、⑦、⑨の4枚あります。

- ・⑤以外のカードを1枚選ぶ場合

①、③、⑦、⑨の4通りです。

- ・⑤以外のカードを2枚選ぶ場合

4枚のカードから2枚のカードを選ぶ選び方は、 $4 \times 3 \div 2 = 6$ (通り) あります。

- ・⑤以外のカードを3枚選ぶ場合

4枚のカードから3枚のカードを選ぶ選び方は、4枚のカードから1枚のカー

ドを選ぶ選び方と等しいので、4通りです。

・5以外のカードを4枚選ぶ場合

すべて選ぶので1通りです。

以上より、 $4 + 6 + 4 + 1 = \underline{15}$ (通り)です。